

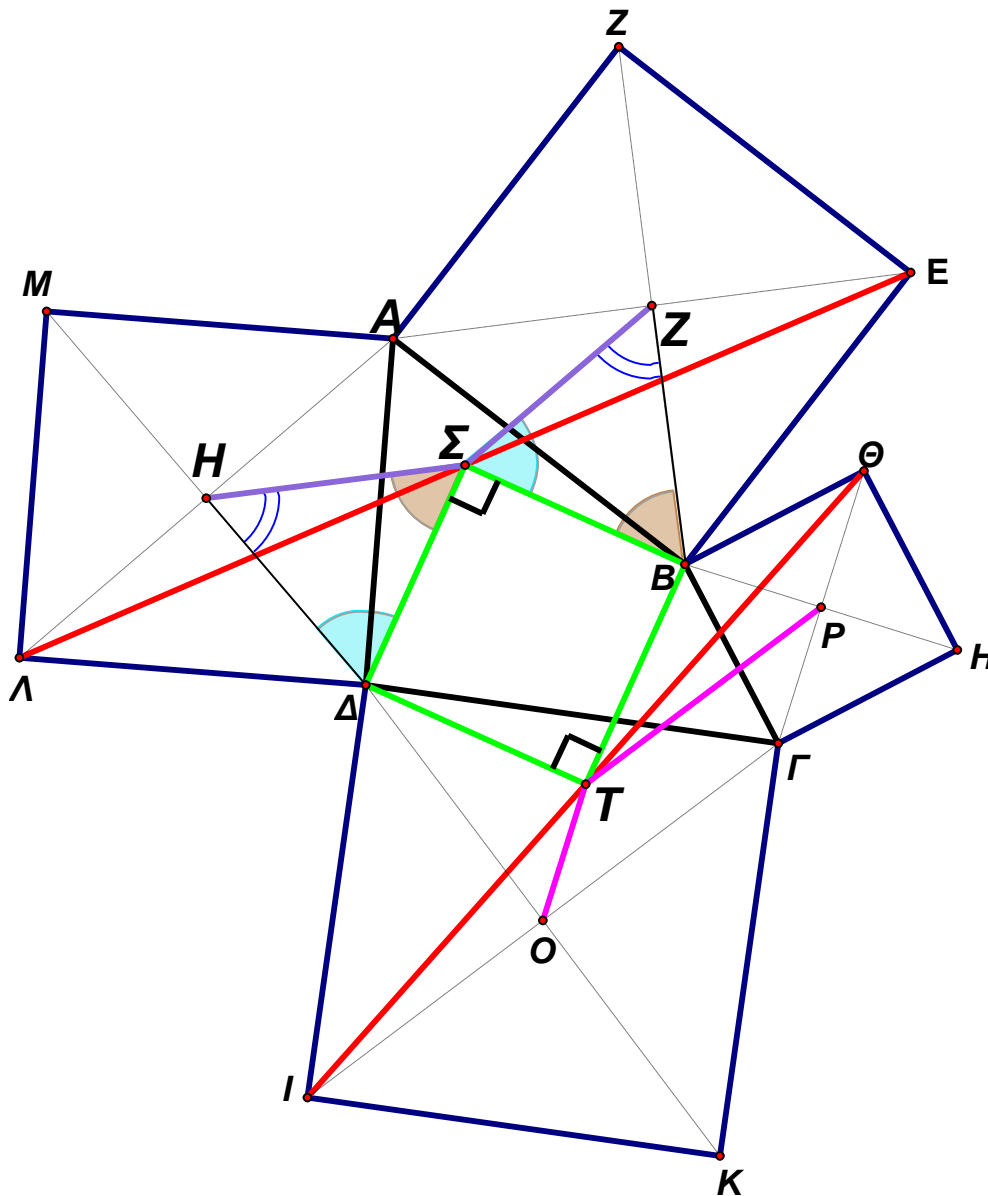
**ΘΕΜΑΤΑ ΕΥΚΛΕΙΔΕΙΑΣ ΓΕΩΜΕΤΡΙΑΣ**

Παραθέτω κάποια παλιά θέματα εισαγωγικών εξετάσεων Ευκλείδειας Γεωμετρίας. Δυστυχώς σήμερα κάποιοι «σοφοί» έχουν εξοστρακίσει το πανέμορφο αυτό μάθημα που προάγει την μαθηματική σκέψη από τις Πανελλήνιες Εξετάσεις, αντικαθιστώντας το με την Ανάλυση που διδάσκεται με τελειώς στρεβλό τρόπο (και φυσικά καταστρέφουν και αυτό το μάθημα). Οι προτεινόμενες λύσεις είναι δικές μου. Τα σχήματα έγιναν με το Geometer's Sketchpad.

**1.** Επί των πλευρών τετραπλεύρου **ΑΒΓΔ** και εκτός αυτού κατασκευάζουμε τα τετράγωνα **ΑΒΕΖ**, **ΓΔΙΚ**, **ΒΓΗΘ**, **ΔΑΜΛ**. Αν **Σ** και **Τ** τα μέσα των **ΕΛ**, **ΙΘ** αντίστοιχα, να αποδειχθεί ότι το τετράπλευρο **ΒΤΔΣ** είναι τετράγωνο.

*(Εισαγωγικές Εξετάσεις Αρχιτεκτόνων Θεσσαλονίκης, 1961)*

Προτεινόμενη Λύση



Αν **Z**, **H** τα κέντρα των τετραγώνων **ΑΒΕΖ**, **ΑΔΛΜ** αντίστοιχα, τότε έχουμε

$$\Sigma Z \overset{//}{=} \frac{A\Lambda}{2} = AH = H\Delta$$

$$H\Sigma \overset{//}{=} \frac{A\text{E}}{2} = AZ = ZB$$

$$\begin{aligned} \Sigma ZB &= 90^\circ - AZ\Sigma = \\ &= 90^\circ - AH\Sigma = \Sigma H\Delta \end{aligned}$$

Έτσι τα τρίγωνα **ΗΣΔ**, **ΣΖΒ** είναι ίσα (Π-Γ-Π).

Οπότε **ΣΒ = ΣΔ**.

Όμως είναι και **ΣΒ ⊥ ΣΔ** διότι

$$\begin{aligned} H\Sigma Z &= 180^\circ - AH\Sigma = \\ &= 180^\circ - (90^\circ - \Sigma H\Delta) = \\ &= 90^\circ + \Sigma H\Delta \end{aligned}$$

οπότε :

$$\begin{aligned} B\Sigma\Delta &= 360^\circ - (H\Sigma\Delta + Z\Sigma B + H\Sigma Z) = 360^\circ - (H\Sigma\Delta + Z\Sigma B + \Sigma H\Delta + 90^\circ) = \\ &= 360^\circ - (180^\circ + 90^\circ) = 90^\circ \end{aligned}$$

Εντελώς ανάλογα αποδεικνύουμε ότι **ΤΒ = ΤΔ** και **ΤΒ ⊥ ΤΔ**. (από ισότητα των τριγώνων **ΔΟΤ**, **ΒΡΤ**)

Τότε όμως τα τρίγωνα  $B\Sigma\Delta$  και  $B\tau\Delta$  είναι ίσα, διότι έχουν κοινή την  $B\Delta$  και τις προσκείμενες γωνίες ίσες με  $45^\circ$  την κάθε μία, αφού καθένα από τα  $B\Sigma\Delta$  και  $B\tau\Delta$  είναι ορθογώνιο και ισοσκελές.

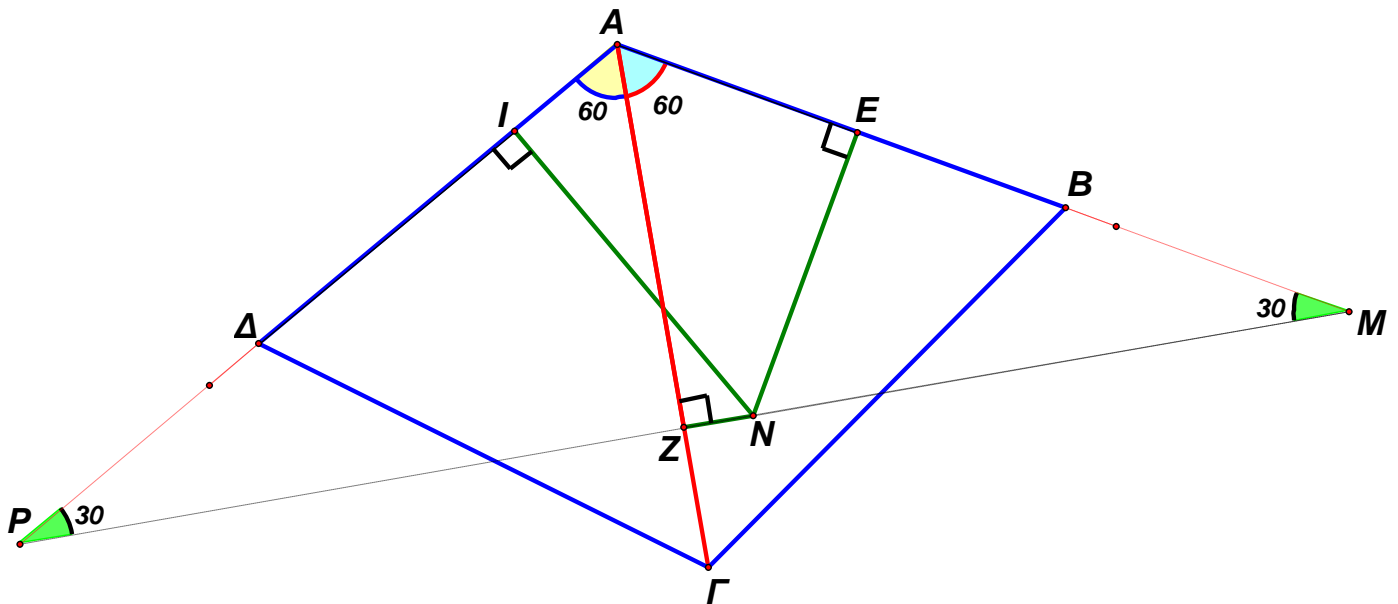
Άρα  $\Sigma B = \Sigma\Delta = B\tau = \tau\Delta$  δηλαδή  $B\Sigma\tau\Delta$  ρόμβος και με μια γωνία ορθή θα είναι τετράγωνο.

2. Σε τετράπλευρο  $AB\Gamma\Delta$  είναι  $\angle B A \Gamma = \angle \Gamma A \Delta = 60^\circ$  και  $N$  τυχαίο εσωτερικό σημείο της γωνίας  $B A \Gamma$ . Αν  $NE, NZ, NI$  οι αποστάσεις του  $N$  από τις ευθείες  $AB, A\Gamma, A\Delta$  αντίστοιχα, αποδείξτε ότι

$NE + NZ = NI$ .

(Πολυτεχνείο Αθηνών, Αλλοδ. Τοπογρ. 1957)

Προτεινόμενη Λύση



Προεκτείνουμε την  $ZN$  μέχρι να τέμνει τις προεκτάσεις των πλευρών  $A\Delta, AB$ , έστω στα σημεία  $P, M$ .

Τότε το τρίγωνο  $APM$  είναι ισοσκελές και  $Z$  μέσο  $PM$ . Από την γνωστή ιδιότητα καθέτου πλευράς ορθογωνίου τριγώνου που βρίσκεται απέναντι από οξεία γωνία  $30^\circ$ , έχουμε :

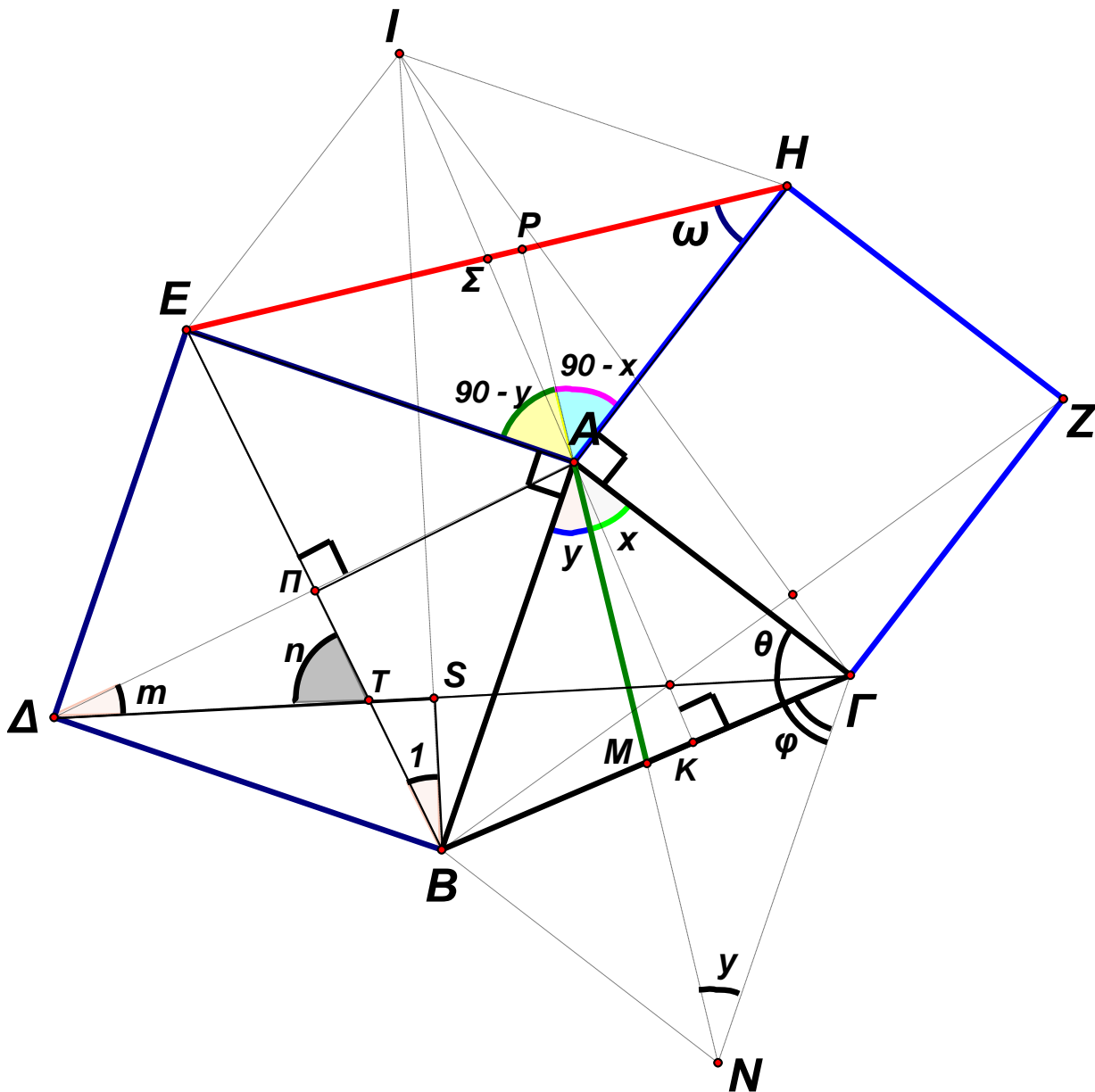
$$NZ = NP - PZ = 2NI - ZM = 2NI - (NZ + NM) = 2NI - NZ - 2NE \Rightarrow 2NZ + 2NE = 2NI \Rightarrow \underline{NZ + NE = NI}$$

3. Επί των πλευρών AB , AG τριγώνου ABΓ κατασκευάζουμε εκτός αυτού τα τετράγωνα ΑΓΖΗ , ΑΒΔΕ. Να αποδειχθεί ότι :

- Η διάμεσος από την κορυφή Α του τριγώνου ABΓ είναι κάθετη στην ΕΗ
- Το από την κορυφή Α ύψος του τριγώνου ABΓ διέρχεται από την κορυφή Ι του παραλληλογράμμου ΕΑΗΙ
- Τα τμήματα ΔΓ , ΒΖ είναι ίσα και κάθετα με τα τμήματα ΒΙ , ΓΙ αντίστοιχα και μάλιστα τέμνονται επί του ύψους του τριγώνου ABΓ που άγεται από την κορυφή Α.

(Γεωπονική Αθηνών 1948 – Ευελπίδων 1955 – Αρχιτεκτόνων Αθηνών 1962, Ολυμπιάδα Ισπανίας 1990)

Προτεινόμενη Λύση



α) Προεκτείνοντας την ΑΜ κατά τμήμα  $MN = AM$  δημιουργούμε το παραλληλόγραμμο ΑΒΝΓ και έστω ότι η προέκταση της ΑΜ τέμνει την ΕΗ στο Ρ. Αν  $\angle M\Gamma A = x$  ,  $\angle M\Lambda B = y$  , τότε  $\angle P\Lambda H = 90^\circ - x$  ,  $\angle P\Lambda E = 90^\circ - y$  . Στο τρίγωνο ΑΓΝ , έχουμε  $\theta + \varphi + x + y = 180^\circ \Rightarrow \theta + \varphi = 180^\circ - (x + y)$  , άρα  $\angle \Gamma N = \angle E\Lambda H$  .

Έτσι τα τρίγωνα  $ΑΓΝ$ ,  $ΕΑΗ$  είναι ίσα, (Π-Γ-Π) οπότε  $\omega = \epsilon ΗΑ = ΜΑΓ = x$ . Έτσι

$$\rho ΑΗ + \omega = (90^\circ - x) + x = 90^\circ, \text{ άρα } \rho ΑΗ = 90^\circ.$$

**b)** Κατασκευάζουμε το παραλληλόγραμμο  $ΕΑΗΙ$  και έστω ότι η προέκταση της  $ΑΙ$  τέμνει την  $ΒΓ$  στο  $Κ$ . Έστω  $\Sigma$  το μέσο της  $ΕΗ$ . Από την προηγούμενη ισότητα των τριγώνων του ερωτήματος **a)** προκύπτει ότι  $ΑΝ = ΕΗ$ , άρα  $ΑΜ = \Sigma Η$ . Έτσι τα τρίγωνα  $\Sigma ΑΗ$ ,  $ΑΜΓ$  είναι ίσα, (Π-Γ-Π) οπότε  $ΑΜΓ = ΑΣΗ$ . Τότε έχουμε  $ΑΜΚ + ΜΑΚ = ΑΣΡ + \Sigma ΑΡ = 90^\circ$ , άρα και  $ΑΚΜ = 90^\circ$ .

**c)** Παρατηρούμε ότι  $ΒΑΓ = 180^\circ - ΕΑΗ = ΙΕΑ$  και έτσι τα τρίγωνα  $ΕΙΒ$ ,  $ΑΔΓ$  είναι ίσα διότι έχουν  $ΙΕ = ΑΓ$ ,  $ΒΕ = ΑΔ$ ,  $ΙΕΒ = 45^\circ + ΙΕΑ = 45^\circ + ΒΑΓ = ΔΑΓ$ , άρα  $B_1 = m$ . Αλλά  $m + n = 90^\circ$ . Έτσι  $ΤΣΒ = 90^\circ$ .

Ανάλογα για τις  $ΒΖ$ ,  $ΙΓ$ .

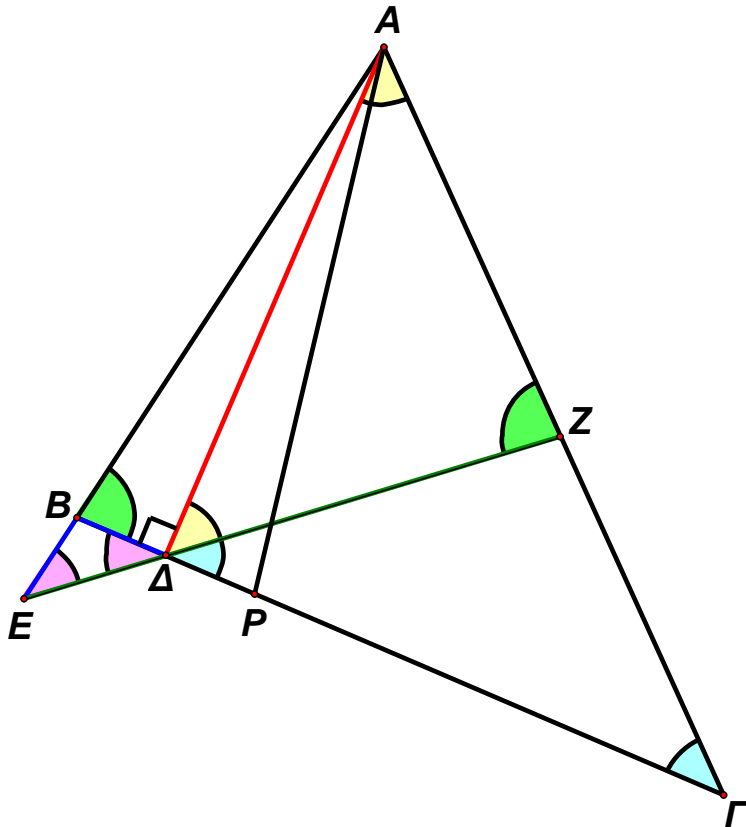
Είναι πλέον φανερό ότι οι  $ΒΖ$ ,  $ΓΔ$ ,  $ΙΚ$  είναι φορείς των υψών στο τρίγωνο  $ΙΒΓ$ , άρα συντρέχουν.

4. Δίνεται οξυγώνιο τρίγωνο  $AB\Gamma$  στο οποίο είναι  $B = 2\Gamma$ . Φέρνουμε το ύψος  $AD$  και προεκτείνουμε την  $AB$  κατά τμήμα  $BE = BD$ . Αποδείξτε ότι :

- Τα τρίγωνα  $AB\Gamma$  και  $AEZ$  έχουν τις γωνίες τους μία προς μία ίσες
- Αν  $Z$  το σημείο τομής των  $A\Gamma$  και  $DE$ , αποδείξτε ότι το  $Z$  ισαπέχει από τα  $A, \Delta, \Gamma$ .
- $AB = \Delta\Gamma - \Delta B$

(Πολυτεχνείο Αθηνών, Χημικοί 1960)

Προτεινόμενη Λύση



a) Αφού  $BE=BD$  θα είναι  $\angle B\Delta E = \angle BE\Delta = \theta$ , τότε  $\angle AB\Gamma = 2\theta$  ως εξωτερική στο τρίγωνο  $BE\Delta$ . Αλλά  $\angle AB\Gamma = 2\Gamma$  και  $\angle B\Delta E = \angle Z\Delta\Gamma$  (κατακ) οπότε  $\Gamma = E = \angle Z\Delta\Gamma = \theta$ .

Έτσι τα τρίγωνα  $AB\Gamma, AEZ$  έχουν  $\angle B\Delta\Gamma$  κοινή,  $\Gamma = E$ ,  $\angle AB\Gamma = \angle AZE$

b)  $\angle AZZ = 90^\circ - \theta = 90^\circ - \Gamma = \angle \Delta A\Gamma$ , άρα  $AZ = \Delta Z$ , ενώ ήδη γνωρίζαμε ότι  $\Delta Z = Z\Gamma$ .

c) Βρίσκουμε το συμμετρικό του  $B$  ως προς το  $\Delta$ , έστω  $P$ . Τότε του τρίγωνο  $ABP$  είναι ισοσκελές, οπότε  $\angle APB = \angle AB\Gamma = 2\theta$ .

Όμως  $\angle APB = \Gamma + \angle PA\Gamma$ , δηλαδή  $2\theta = \theta + \angle PA\Gamma \Rightarrow \theta = \angle PA\Gamma \Rightarrow P\Gamma = PA$

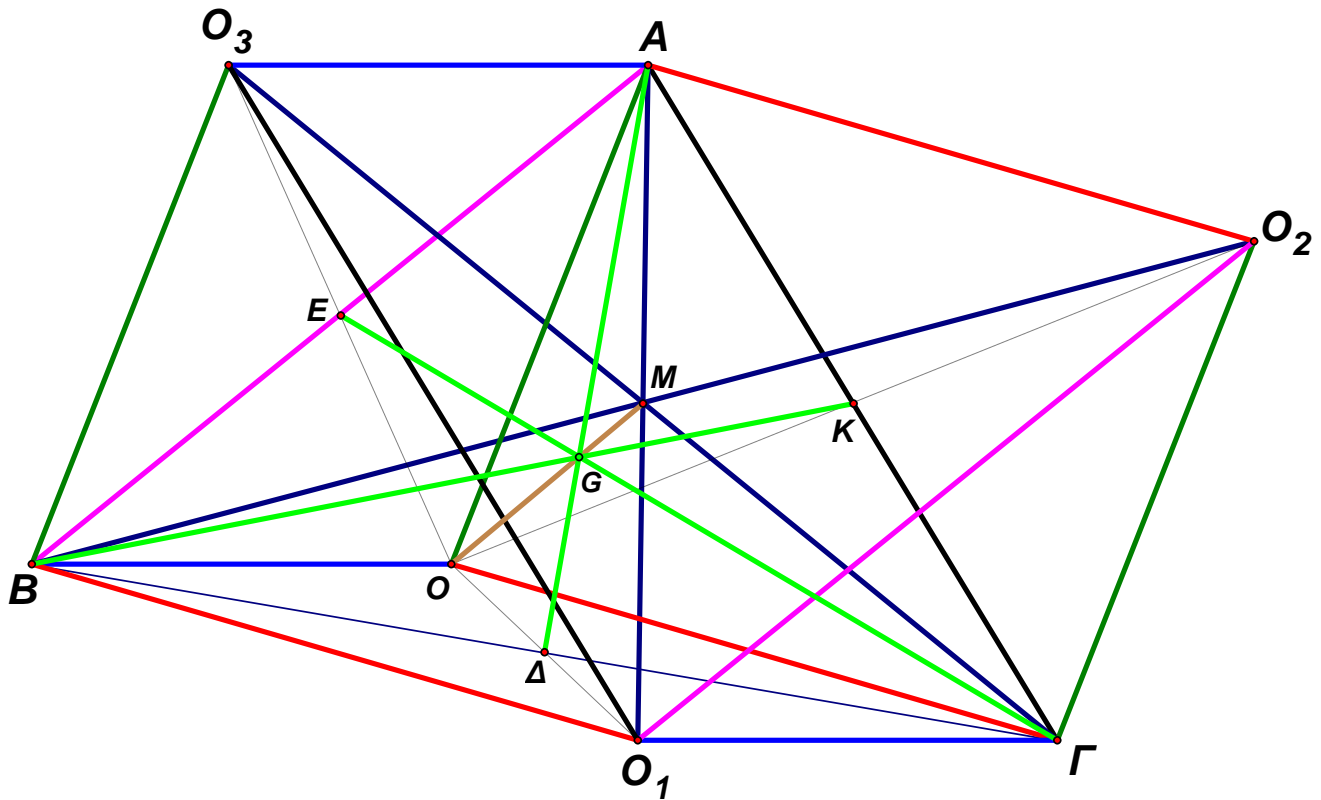
Έτσι,  $AB = AP = P\Gamma = \Delta\Gamma - \Delta P = \Delta\Gamma - \Delta B$ .

5. Έστω  $O$  τυχαίο εσωτερικό σημείο του τριγώνου  $AB\Gamma$  και  $O_1, O_2, O_3$ , τα συμμετρικά του  $O$  ως προς τα μέσα των πλευρών  $B\Gamma, A\Gamma, AB$  αντίστοιχα. Αποδείξτε ότι :

- Οι ευθείες  $AO_1, BO_2, \Gamma O_3$  διέρχονται από το ίδιο σημείο, έστω  $M$ .
- Οι άπειρες ευθείες  $OM$  διέρχονται από σταθερό σημείο του τριγώνου  $AB\Gamma$ .

Προτεινόμενη Λύση

(Σχολή Υπομηχανικών 1960)



a) Επειδή το σημείο  $\Delta$  είναι κοινό μέσο των τμημάτων  $B\Gamma, OO_1$ , το τετράπλευρο  $BO\Gamma O_1$  θα είναι παραλληλόγραμμο, άρα τα τμήματα  $BO_1, \Gamma O$  θα είναι ίσα και παράλληλα. Ανάλογα, έχουμε ότι  $AO_2, \Gamma O$  ίσα και παράλληλα. Έτσι, το  $AO_2 O_1 B$  θα είναι παραλληλόγραμμο, άρα οι διαγώνιές του  $AO_1, BO_2$  θα διχοτομούνται.

Εντελώς ανάλογα δείχνουμε ότι διχοτομούνται τα τμήματα  $\Gamma O_3, AO_1$  αφού  $AO_3 O_1 \Gamma$  είναι παραλληλόγραμμο, λόγω των παραλληλογράμμων  $AO_3 BO, BO\Gamma O_1$ .

Έστω το σημείο  $M$  είναι κοινό μέσο των  $AO_1, BO_2, \Gamma O_3$ .

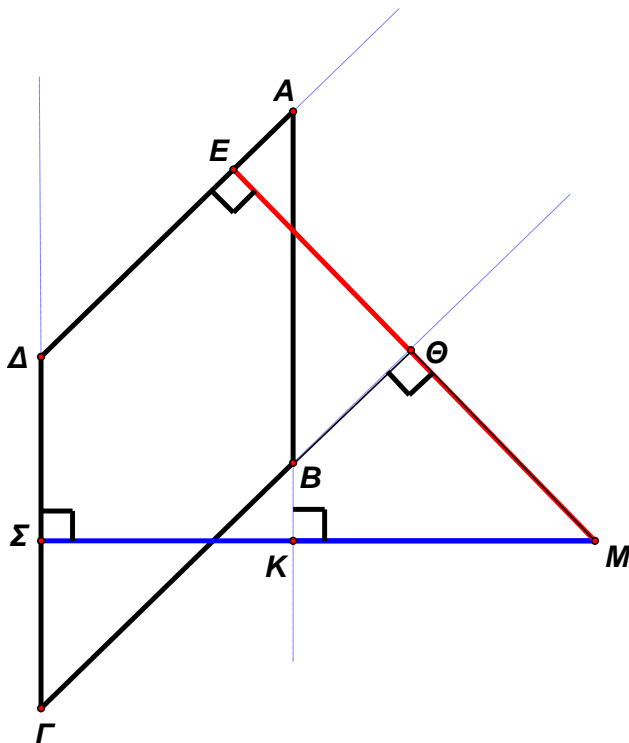
β) Παρατηρούμε ότι στο τρίγωνο  $OO_3Γ$  οι  $OM, ΓE$  είναι διάμεσοι άρα για το σημείο στο οποίο τέμνονται έστω  $G_1$ , θα έχουμε  $OM = 3G_1M$ , ενώ στο τρίγωνο  $OO_1A$  οι  $OM, AΔ$  είναι επίσης διάμεσοι άρα για το σημείο στο οποίο τέμνονται θα έχουμε  $OM = 3G_1M$ , άρα τα σημεία  $G_1, G_2$  ταυτίζονται.

Αυτό σημαίνει ότι τα τρίγωνα  $ABΓ, OO_3B, OO_1A, OO_2B$  έχουν κοινό βαρύκεντρο, από το οποίο και διέρχονται όλες οι άπειρες ευθείες  $OM$ .

6. Δίνεται ρόμβος  $ABΓΔ$  και τυχαίο σημείο  $M$  εσωτερικό της κατακορυφήν γωνίας  $ABΓ$  του ρόμβου. Αποδείξτε ότι το άθροισμα των αποστάσεων του  $M$  από τις πλευρές  $AB$  και  $AD$  ισούται με το άθροισμα των αποστάσεων του από τις πλευρές  $GB$  και  $GD$ .

Προτεινόμενη Λύση

(Δοκίμων, 1949)



Πρέπει να δείξουμε ότι  $MK + ME = MΘ + MS$ .

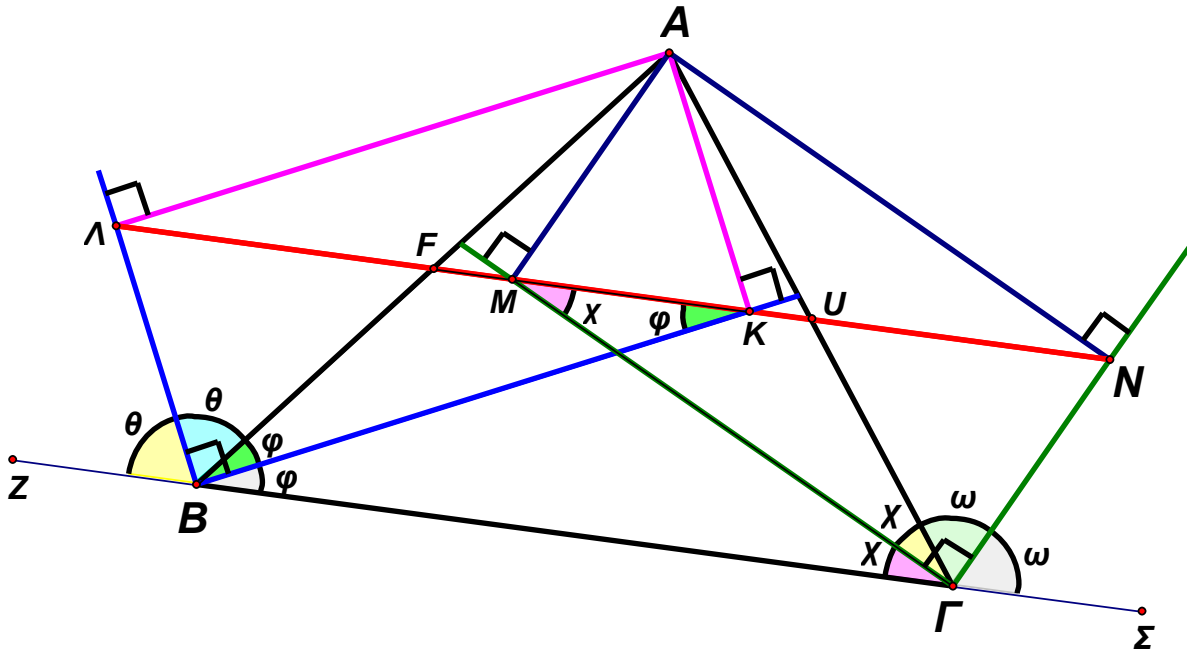
Παρατηρούμε ότι  $EΘ = SK$  ( τα ύψη του ρόμβου είναι ίσα) διότι  $(ABΓΔ) = AD \cdot EΘ = ΔΓ \cdot SK$ , αλλά  $AD = ΔΓ$ .

Έτσι,  $MK + ME = MK + (MΘ + EΘ) = MΘ + (MK + EΘ) = MΘ + (MK + SK) = MΘ + MS$ .

7. Έστω  $K$  και  $\Lambda$  οι προβολές της κορυφής  $A$  τριγώνου  $AB\Gamma$  επί της εσωτερικής και εξωτερικής διχοτόμου της γωνίας  $B$  αντίστοιχα, ενώ  $M$  και  $N$  οι προβολές του  $A$  επί της εσωτερικής και εξωτερικής διχοτόμου της γωνίας  $\Gamma$  αντίστοιχα. Αποδείξτε ότι τα σημεία  $K, \Lambda, M, N$  είναι συνευθειακά και μάλιστα η ευθεία πάνω στην οποία βρίσκονται είναι παράλληλη προς τη  $B\Gamma$ .

Προτεινόμενη Λύση

(Σχολή Εμποροπλοιάρχων – Μηχανικών 1958)



Γνωρίζουμε ότι οι διχοτόμοι εφεξής και παραπληρωματικών γωνιών είναι κάθετες, άρα το  $AK\Lambda$  είναι ορθογώνιο παραλληλόγραμμο αφού έχει 3 ορθές γωνίες. Έτσι οι διαγώνιες του διχοτομούνται στο  $F$  και είναι και ίσες, άρα  $FB = FK$ , δηλαδή  $\angle FKB = \angle FBK = \varphi$ . Αλλά  $\angle ABK = \angle \Gamma BK$  ( $BK$  εσωτερική διχοτόμος), άρα  $\angle \Gamma BK = \angle FKB \Rightarrow FK \parallel B\Gamma$ , δηλαδή η ευθεία  $\Lambda FK$  είναι παράλληλη στην  $B\Gamma$ .

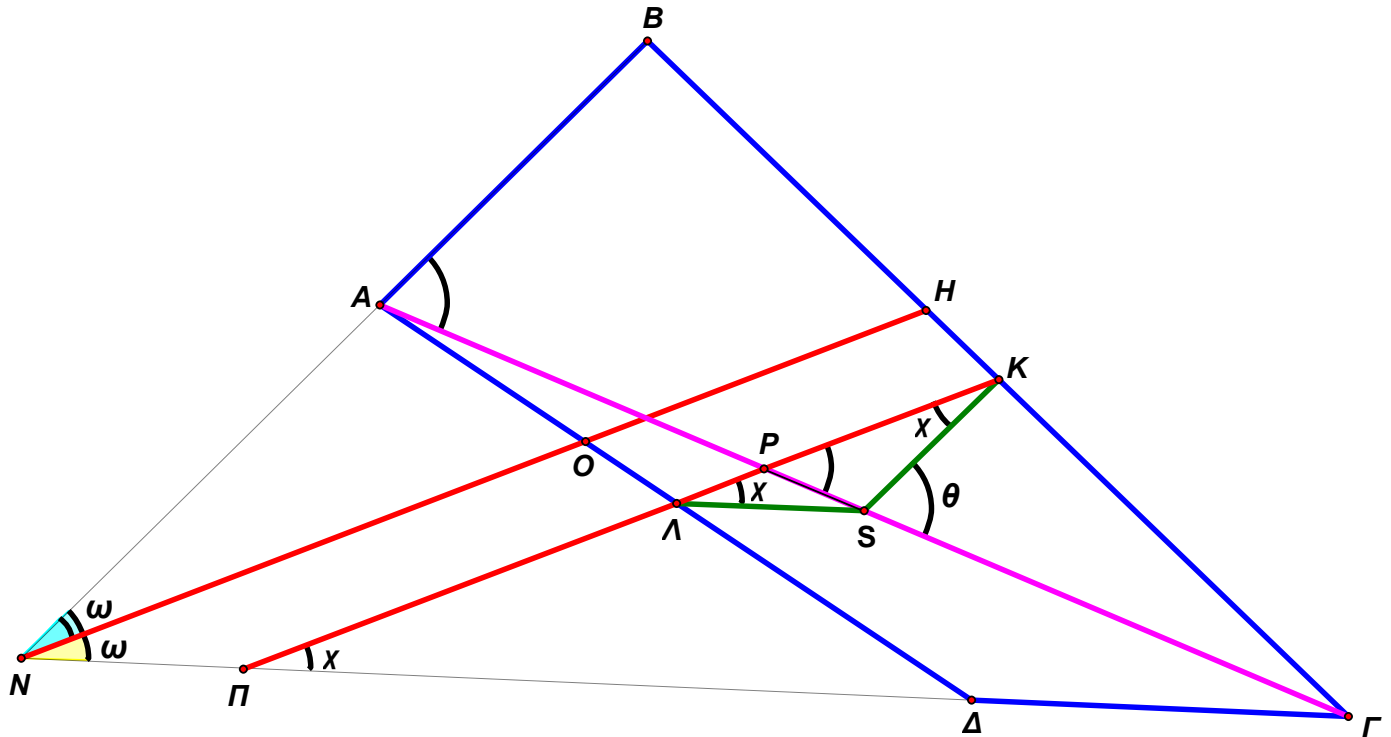
Εντελώς ανάλογα προκύπτει ότι η ευθεία  $MUN$  είναι παράλληλη στην  $B\Gamma$ , ενώ πρόσθετα και  $FU \parallel B\Gamma$ .



8. Εάν δύο απέναντι πλευρές τετραπλεύρου είναι ίσες και μη παράλληλες, αποδείξτε ότι η ευθεία που ενώνει τα μέσα των δύο άλλων πλευρών είναι παράλληλη προς την διχοτόμο της γωνίας που σχηματίζουν οι δύο ίσες πλευρές.

(Εθνικό Μετσόβιο Πολυτεχνείο, Χημικό 1960, Σχολή Ικάρων 1960)

Προτεινόμενη λύση



Έστω  $S$  το μέσο της διαγωνίου  $AG$ . Τότε  $SK \stackrel{''}{=} \frac{AB}{2} = \frac{GD}{2} \stackrel{''}{=} S\Lambda \Rightarrow SK\Lambda = S\Lambda K = x$

Άρα  $\theta = KSG = x + KPS = x + (x + PS\Lambda) = 2x + S\Gamma\Delta$

Όμως είναι και  $\theta = KSG = BAG = 2\omega + S\Gamma\Delta$

Ώστε  $2x = 2\omega \Rightarrow x = \omega \Rightarrow \Pi\Lambda K // NH$